

Зачетная работа по модулю «Возрастные особенности младшего школьника»

Работу выполнила

Шишкунова М.Ю.

учитель начальных классов

МОУ Тихменевская СОШ Рыбинского МР


Математика 2 класс


УМК «Начальная школа XXI века»

Отрезали 18 ломтиков хлеба для бутербродов. Для каждого бутерброда берут 2 ломтика. Хватит ли нарезанного хлеба для приготовления 10 бутербродов?


Сырок стоит 8 рублей. Верно ли, что, имея 50 рублей, можно купить не более 6 таких сырков?

Математика 3 класс

22.  В магазине продаются ручки по 5 р. и по 9 р. Аня, Ваня и Таня купили по одной ручке. Сколько рублей они могли заплатить за всю покупку?

19*  Стиральный порошок продаётся в коробках по 650 г и 750 г. Мама хочет купить не более 2 кг порошка. Сколько и какие упаковки порошка она может купить?

Математика 3 класс


25*.  Лена, Катя и Ира нашли 30 белых грибов: Лена — 5, Катя — 10, а Ира — 15. За это бабушка дала девочкам 18 конфет и предложила им разделить эти конфеты по справедливости. Сколько конфет досталось каждой из девочек?

Математика 3 класс


6. Сделав покупки, Катя уже хотела уйти из магазина, но вспомнила, что забыла купить пирожные. Цена пирожного 15 р. Она взглянула на оставшиеся деньги и решила, что их достаточно для покупки 6 пирожных, но не хватает на 7 пирожных. Сколько денег могло остаться у Кати? Запишите ответ в виде: от ... р. до ... р.

Математика 2 класс

Начерти зелёный отрезок длиной 5 см. Начерти красный отрезок, длина которого на 2 см отличается от длины зелёного, и запиши его длину.

6*.  Площадь прямоугольника 24 см². В каком случае из этого прямоугольника можно вырезать квадрат с длиной стороны 4 см?

Математика 3 класс

17.  Купили книгу, альбом и тетрадь. За всю покупку без тетради заплатили 75 р. Книга стоит 40 р. Сколько стоит альбом? Достаточно ли данных, чтобы найти цену тетради?

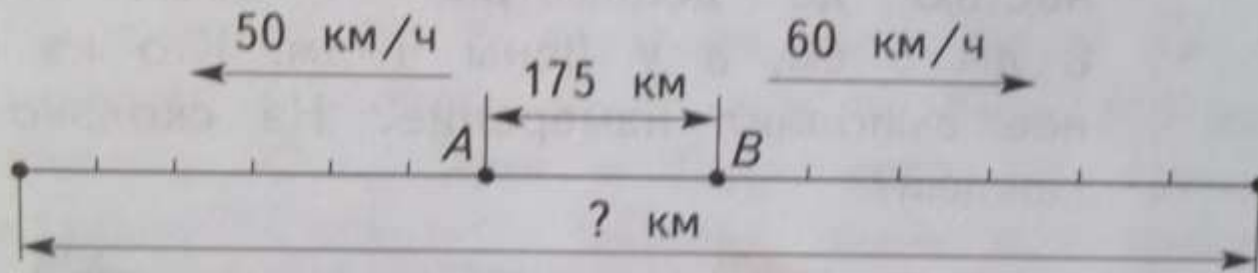
Математика 4 класс

25. Петя прочитал в энциклопедии, что самое глубокое и крупное озеро в мире Байкал достигает в длину 636 км, а в ширину 79 км. Найдя площадь озера умножением 636 на 79, он получил 50 244 км². Петя удивился, что в энциклопедии указано другое число: 31 700 км². В чём ошибка Пети?



Математика 4 класс

14. Рассмотрите схему движения двух поездов, которые одновременно отправились из городов A и B и были в пути 6 часов.



Математика 4 класс

28*. В 9 ч утра из города на шоссе выехала машина со скоростью 72 км/ч. Через полчаса вслед за ней выехал мотоцикл со скоростью 60 км/ч. На каком расстоянии вдоль шоссе они будут находиться друг от друга в 10 ч утра?

Окружающий мир 2 класс

Тема: Моя семья

- Закончи рассказ, чтобы в нём был ответ на вопрос, поставленный в названии.

Что я думаю о Пете?

Я — щенок. Мой хозяин — Петя.
Он скоро перейдёт в 3 класс...

Окружающий мир 2 класс

Тема: Царства природы

Давайте подумаем, на всех ли рисунках изображены грибы. Сверим свои выводы с текстом.




Технология 2 класс

Тема: Технологические операции

Разметка деталей

Каким способом можно быстро и экономно изготовить четыре одинаковые детали?



Технология 2 класс

Тема: Технологические операции

Отделение детали от заготовки

Каждому инструменту — своя работа

Рассмотри рисунки инструментов и приспособлений. По какому признаку их можно разделить на две группы?

